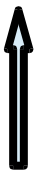


Botanischer Lehrgarten	Datum	Lebensraum Teich
Name:	Klasse:	Schule:

1. Name des untersuchten Teiches:.....

a.) Zeichne die Form des Teiches! Beachte den Nordpfeil! Kennzeichne mit einem kleinen Symbol eine markante Stelle!

N



b.) Äußere eine Vermutung, wie der Teich entstanden ist!

c.) Gibt es einen Zufluss und einen Abfluss und wenn ja, in welcher Himmelsrichtung liegen diese?

Zufluss:

Abfluss:

d.) Beurteile die Qualität des Wassers!

Farbe des Wassers:

Geruch des Wassers:

Gehalt an Schwebstoffen:

Lufttemperatur:

Wassertemperatur:



Erkennbare menschliche Einflüsse:

e.) Ermittle mit Hilfe von Bestimmungsliteratur, welche Pflanzen und Tiere am und im Teich leben! Finde jeweils mindestens drei Arten!

Pflanzenarten:

Tierarten:

Zeichne jeweils ein Beispiel:



Pflanzenart:..... Tierart:.....